



Š i f r a k a n d i d a t a :

Državni izpitni center



M 2 2 1 5 0 1 1 1

SPOMLADANSKI IZPITNI ROK

GEOGRAFIJA

≡≡≡ Izpitna pola 1 ≡≡≡

Obča geografija – Regionalna geografija sveta in Evrope

Četrtek, 2. junij 2022 / 90 minut

*Dovoljeno gradivo in pripomočki:
Kandidat prinese nalivno pero ali kemični svinčnik.
Izpitni poli je priložena barvna priloga.*

SPLOŠNA MATURA

NAVODILA KANDIDATU

Pazljivo preberite ta navodila.

Ne odpirajte izpitne pole in ne začenjajte reševati nalog, dokler vam nadzorni učitelj tega ne dovoli.

Prilepite kodo oziroma vpišite svojo šifro (v okvirček desno zgoraj na tej strani).

Izpitna pola vsebuje 25 nalog. Število točk, ki jih lahko dosežete, je 50. Za posamezno nalogo je število točk navedeno v izpitni poli.

Rešitve pišite z nalivnim peresom ali s kemičnim svinčnikom v izpitno polo v za to predvideni prostor **znotraj okvirja**.
Odgovarjajte v obliki povedi in ne le z besedo ali besedno zvezo. Pišite čitljivo. Če se zmotite, napisano prečrtajte in rešitev zapišite na novo. Nečitljivi zapisi in nejasni popravki bodo ocenjeni z 0 točkami.

Zaupajte vase in v svoje zmožnosti. Želimo vam veliko uspeha.

*Ta pola ima 16 strani (1–16), od tega 4 prazne.
Barvna priloga ima 4 strani (17–20).*



Svet 1

6. Obkrožite črki pred pravilnima trditvama o prsteh Avstralije.
- A Severna območja Avstralije prekrivajo rdečkasto rumene prsti vročih in vlažnih predelov.
 - B Na jugozahodu so značilne prsti, ki nastajajo v sredozemskem podnebjju.
 - C V puščavski notranjosti prsti z namakanjem postanejo rodovitne, saj imajo veliko humusa.
 - D Na jugu je več padavin, zato so značilne sive sprane prsti.

(2 točki)

7. Slika 3 prikazuje območje v Afriki med ekvatorjem in severnim povratnikom. Imenujte skupino naravnega rastlinstva, ki prevladuje na območjih južno od pokrajine, ki je prikazana na sliki 3.



Slika 3

(Vir: S. T., 2013)

Skupina naravnega rastlinstva: _____

(1 točka)

8. Imenujte prevladujočo skupino naravnega rastlinstva in prevladujočo skupino (tip) prsti na območju, ki je na sliki 15 v barvni prilogi označeno s črko A. Opišite značilnosti te prsti, na katero je odločilno vplivalo naravno rastlinstvo tega območja.

Skupina naravnega rastlinstva: _____

Tip prsti: _____

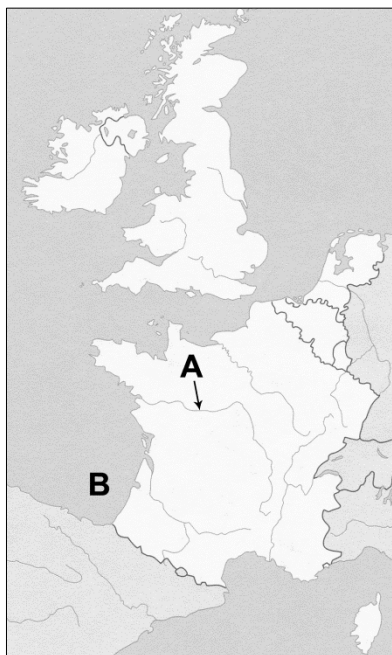
Opis: _____

(3 točke)



Evropa 1

16. S pomočjo slike 8 imenujte zahodnoevropsko reko, ki je označena s črko A, in zaliv, ki je označen s črko B.



Slika 8

(Prirejeno po: Senegačnik, J., in drugi, 2006: Evropa. Geografija za 2. in 3. letnik gimnazij. Delovni zvezek. Modrijan. Ljubljana)

A (reka): _____

B (zaliv): _____

(2 točki)

17. Od štirih navedenih trditev o Delta projektu na Nizozemskem sta dve napačni. Zapišite ju pravilno.

Ena od treh rek, ki so oblikovale delto na Nizozemskem, je reka Laba.

Na celotni nizozemski obali so zgradili protipoplavne zapornice.

Z Delta projektom so odpravili nevarnost pred poplavami.

Naravnogeografski vzrok za poplavno ogroženost jugozahodne Nizozemske je poleg vodovja in podnebja tudi relief.

1 _____

2 _____

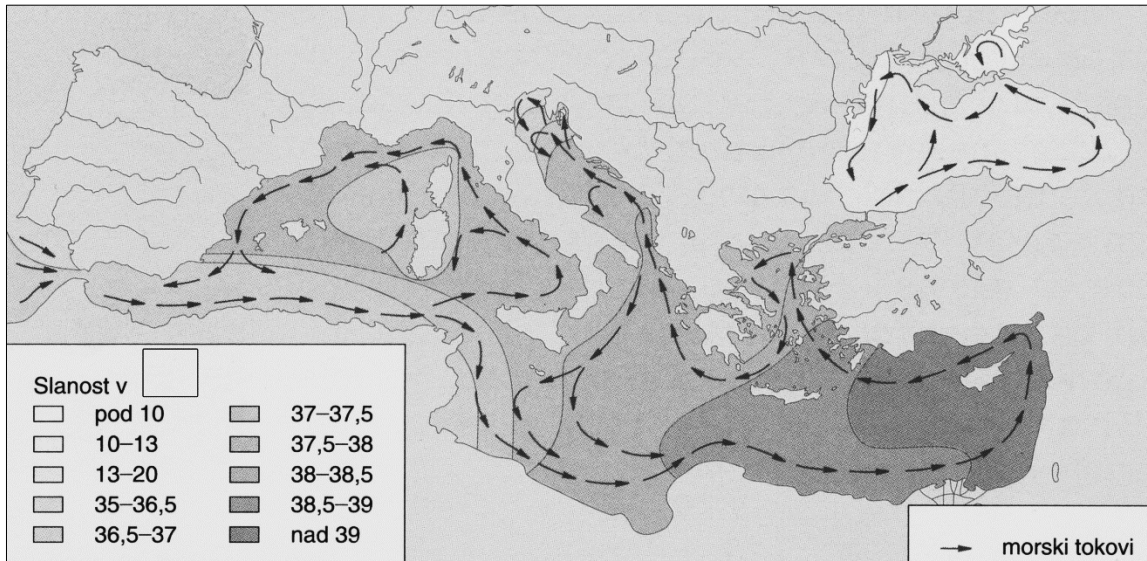
(2 točki)



M 2 2 1 5 0 1 1 1 1 1

V sivo polje ne pišite. V sivo polje ne pišite. V sivo polje ne pišite. V sivo polje ne pišite. V sivo polje ne pišite.

18. Slika 9 prikazuje slanost Sredozemskega morja. V prazen kvadrat v legendi vpišite enoto, s katero je izražen delež soli v morju, in opišite podnebni vzrok za višjo slanost vzhodnega dela Sredozemskega morja v primerjavi z zahodnim delom.



Slika 9

(Prirejeno po: Senegačnik, J., in drugi, 1998: Živim v Evropi, str. 46. Modrijan. Ljubljana)

Opis: _____
 (2 točki)

19. S pomočjo slike 17 v barvni prilogi imenujte državo z največjim deležem hidroenergije v Jugovzhodni Evropi in opišite vpliv reliefa na velik hidroenergetski potencial rek na območju, ki je na sliki označeno s črko A.

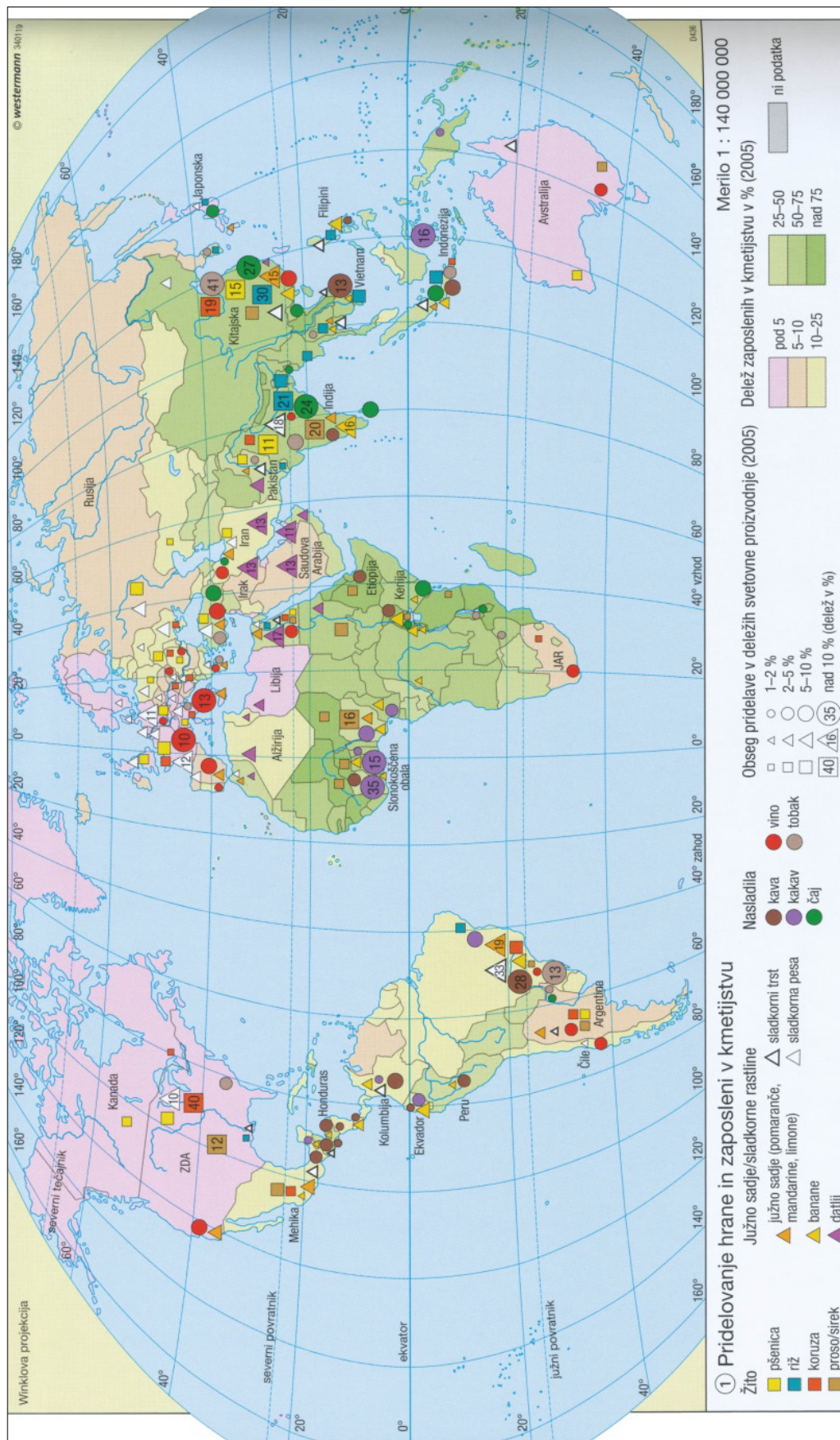
Država: _____
 Opis: _____

 (2 točki)

20. Imenujte morje v Srednji Ameriki, iz katerega morski tok teče preko Atlantika proti Zahodni Evropi, in pojasnite vpliv tega toka na letno temperaturno amplitudo obalnih območij tega dela Evrope.

Morje: _____
 Pojasnitev: _____

 (2 točki)



Slika 16: Pridelovanje hrane in zaposleni v kmetijstvu

(Prirejeno po: Atlas sveta za osnovne in srednje šole, str. 172. Mladinska knjiga. Ljubljana, 2016)

