



Codice del candidato:

**Državni izpitni center**



M 2 2 2 5 0 1 4 2 1

SESSIONE AUTUNNALE

# **GEOGRAFIA**

≡ Prova d'esame 2 ≡

Geografia generale – Geografia della Slovenia e dell'Italia

**Lunedì, 29 agosto 2022 / 90 minuti**

*Materiali e sussidi consentiti:*

*Al candidato è consentito l'uso della penna stilografica o della penna a sfera.*

*La prova d'esame comprende un allegato a colori.*

**MATURITÀ GENERALE**

## **INDICAZIONI PER I CANDIDATI**

**Leggete con attenzione le seguenti indicazioni.**

**Non aprite la prova d'esame e non iniziate a svolgerla prima del via dell'insegnante preposto.**

Incollate o scrivete il vostro numero di codice negli spazi appositi su questa pagina in alto a destra.

La prova d'esame si compone di 26 quesiti, risolvendo correttamente i quali potete conseguire fino a un massimo di 50 punti. Il punteggio conseguibile in ciascun quesito viene di volta in volta espressamente indicato.

Scrivete le vostre risposte all'interno della prova, **nei riquadri appositamente previsti**, utilizzando la penna stilografica o la penna a sfera. Formulate delle frasi complete e leggibili: in caso di errore, tracciate un segno sulla risposta scorretta e scrivete accanto a essa quella corretta. Alle risposte e alle correzioni scritte in modo illeggibile verranno assegnati 0 punti.

Abbiate fiducia in voi stessi e nelle vostre capacità. Vi auguriamo buon lavoro.

*La prova si compone di 16 pagine (1-16), di cui 4 vuote. L'allegato a colori si compone di 2 pagine (17-18).*



Non scrivete nel campo grigio. Non scrivete nel campo grigio. Non scrivete nel campo grigio. Non scrivete nel campo grigio. Non scrivete nel campo grigio. Non scrivete nel campo grigio. Non scrivete nel campo grigio. Non scrivete nel campo grigio. Non scrivete nel campo grigio. Non scrivete nel campo grigio.



M 2 2 2 5 0 1 4 2 1 0 3

# Pagina vuota

**VOLTATE IL FOGLIO.**



## Geografia generale

1. La figura 1 rappresenta la crescita della popolazione mondiale tra il 1050 e il 2017. Indicate il numero degli abitanti sulla Terra nel 1830 e il continente con il maggior numero di Paesi che oggi registrano una crescita demografica come quella rappresentata nella figura 1 dopo il 1950.

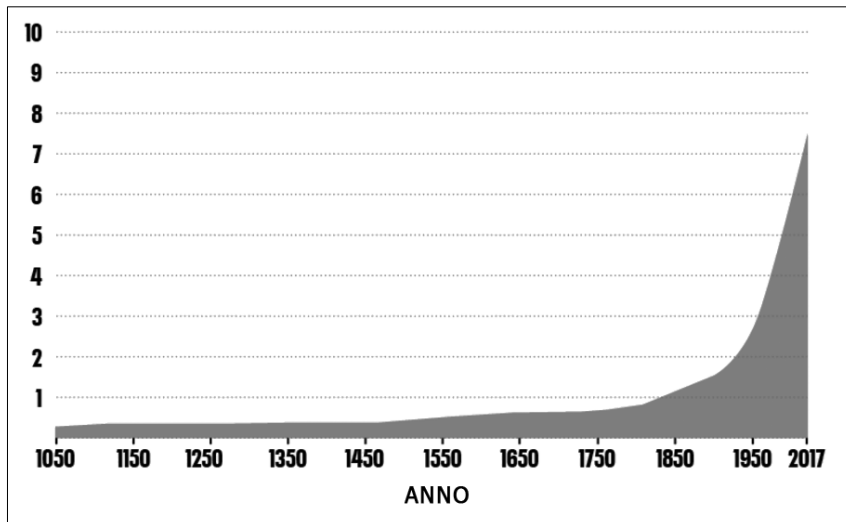


Figura 1: Crescita della popolazione mondiale

(Adattato da: [https://frogblogmanchester.files.wordpress.com/2019/08/historical-human-population-growth-no-logo\\_3.png](https://frogblogmanchester.files.wordpress.com/2019/08/historical-human-population-growth-no-logo_3.png).  
Data di consultazione: 3. 12. 2020.)

Numero di abitanti nel 1830: \_\_\_\_\_

Continente: \_\_\_\_\_

(2 punti)

2. Descrivete tre cause del minore saldo naturale nei Paesi economicamente più sviluppati.

1 \_\_\_\_\_

2 \_\_\_\_\_

3 \_\_\_\_\_

(2 punti)



3. Cerchiate le lettere dinanzi alle due affermazioni che descrivono opportunamente le caratteristiche demografiche del Paese, come rappresentate nella figura 2.

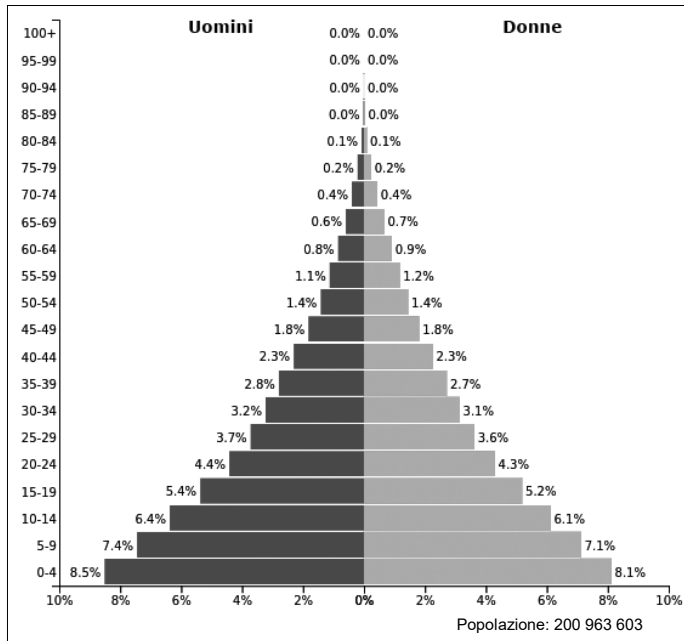


Figura 2

(Adattato da: <https://images.populationpyramid.net/capture/?selector=%23pyramid-share-container&url=https%3A%2F%2Fwww.populationpyramid.net%2F%2F2019%2F%3Fshare%3Dtrue>. Data di consultazione: 13. 3. 2014.)

- A Nel Paese, la mortalità è bassa.
- B La speranza di vita è superiore alla media mondiale.
- C Nel Paese, la natalità supera il 20 %.
- D La piramide delle età della Cina è simile a quella rappresentata.

(2 punti)

4. Spiegate l'influsso delle contemporanee migrazioni politiche intercontinentali sulla percentuale degli aderenti alle principali religioni mondiali in Europa.

---

---

---

(2 punti)

5. Spiegate l'assetto dell'area della città rappresentata nella figura 6 dell'allegato a colori.

---

---

---

(2 punti)



## Slovenia 1

6. Cerchiate il termine che completa correttamente ciascuna affermazione.

Il tipo di suolo maggiormente diffuso in Slovenia è costituito da

rendzine      fluvisuoli      suoli marroni calcarei      istosuoli

Il fattore che maggiormente ha determinato la varietà dei suoli in Slovenia è

la morfologia del territorio      la flora      l'acqua di falda      il clima continentale umido

(2 punti)

7. Dinanzi a ciascuna affermazione scrivete SÌ se essa è corretta oppure NO se è errata.

\_\_\_\_\_ I gley sono suoli di colore rossastro dovuto alla presenza di ossidi di ferro.

\_\_\_\_\_ I suoli marroni eutrici sono tipici dei depositi di ciottoli e sabbia silicei lungo i fiumi Mura e Drava.

\_\_\_\_\_ Sui depositi di limo e argilla si sviluppano suoli molto umidi (bagnati).

(2 punti)

8. Descrivete due cause antropiche dell'alta percentuale di bosco nella zona che nella figura 7 dell'allegato a colori è contrassegnata dalla lettera A.

1 \_\_\_\_\_

\_\_\_\_\_

2 \_\_\_\_\_

\_\_\_\_\_

(2 punti)

9. Completate la tabella inserendo, a sinistra, il nome del piano altitudinale (fascia altitudinale bioclimatica), a destra, invece, la descrizione della caratteristica della vegetazione spontanea presente nel piano altitudinale indicato.

Nome del piano altitudinale	Descrizione della caratteristica della vegetazione spontanea
	<ul style="list-style-type: none"> <li>– è dominato dal bosco aghifoglie</li> <li>– nell'alto Isonzo vi è pure la presenza di faggete</li> </ul>
piano sub-montano	

(2 punti)



10. Spiegate la causa della maggiore diffusione del bosco ad aghifoglie in Slovenia, rispetto a quanto ci si aspetterebbe considerando le condizioni naturali.

---

---

(1 punto)

11. Spiegate l'influsso della composizione litologica sulla proprietà del suolo situato a quote più elevate della zona che, nella figura 7 dell'allegato a colori, è contrassegnata dalla lettera B.

---

---

---

(1 punto)



## Slovenia 2

12. Indicate la prevalente attività del settore primario nella regione denominata Goriška brda e la categoria di uso del suolo che predomina nelle regioni alpine al di sopra del limite del bosco. Scegliete tra:

allevamento	deagrarizzazione	olivicoltura	viticoltura
pascoli	campi coltivati	agricoltura biologica	

Attività del settore primario: \_\_\_\_\_

Categoria di uso del suolo: \_\_\_\_\_

(2 punti)

13. Cerchiate SÌ se l'affermazione è corretta, NO se è errata.

In Slovenia, la trasformazione del sistema politico ed economico avvenuta dopo la Seconda guerra mondiale ha dato luogo alla nazionalizzazione di alcuni terreni agricoli.

Sì      NO

L'ammodernamento del settore agricolo, avvenuto dopo l'indipendenza della Slovenia, ha avuto come conseguenza un aumento significativo dell'incidenza dell'agricoltura sul PIL sloveno.

Sì      NO

Un ostacolo allo sviluppo del settore agricolo in Slovenia è rappresentato, anche dopo l'adesione all'UE, dalle esigue dimensioni delle aziende agricole.

Sì      NO

(2 punti)

14. Descrivete due effetti geografico-fisici negativi sullo sviluppo dell'agricoltura nella zona che, nella figura 8 dell'allegato a colori, è contrassegnata dalla lettera A.

1 \_\_\_\_\_

2 \_\_\_\_\_

(2 punti)

15. Nella figura 8 dell'allegato a colori, le lettere B e C contrassegnano due zone. Scrivete la lettera della zona soggetta alla deagrarizzazione e descrivete un intervento con cui lo stato aiuta tali zone.

Lettera della zona: \_\_\_\_\_

Descrizione: \_\_\_\_\_

(2 punti)





16. Con la descrizione della causa e delle conseguenze, spiegate un effetto positivo e un effetto negativo dei cambiamenti climatici sul settore agricolo in Slovenia.

Spiegazione dell'effetto positivo: \_\_\_\_\_

\_\_\_\_\_

\_\_\_\_\_

Spiegazione dell'effetto negativo: \_\_\_\_\_

\_\_\_\_\_

\_\_\_\_\_

*(2 punti)*



## Geografia dell'Italia 1

17. Nella figura 3 sono evidenziate alcune penisole e alcuni arcipelaghi italiani. Localizzate nella figura la Penisola Salentina e l'Arcipelago Toscano, e scrivete il nome di tali due aree sulle rispettive linee.



*Figura 3*

(Adattato da: Italia. Carte mute. URL: <https://www.edatlas.it/documents/2fa534a8-8aaa-4eac-b8ff-0bc66edb30ad>. Data di consultazione: 8. 6. 2019.)

(2 punti)



18. Per ciascuna pianura elencata, indicatene il tipo in base all'origine. Scegliete tra:

pianura da erosione      alluvionale      di sprofondamento      di sollevamento      vulcanica

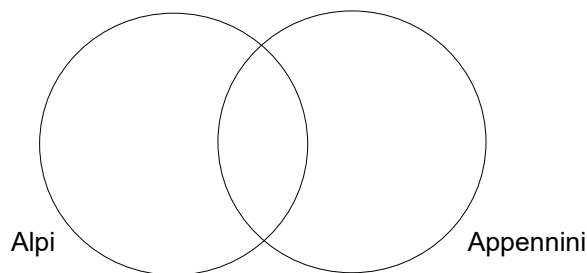
Pianura Campana: \_\_\_\_\_

Agro Pontino: \_\_\_\_\_

(2 punti)

19. Ricopiate all'interno degli insiemi le lettere che precedono rispettivamente le affermazioni valide per le Alpi e quelle valide per gli Appennini. Nello spazio dell'intersezione, ricopiate le lettere che precedono le affermazioni valide per entrambe le catene montuose.

- A La massima vetta non supera i 3000 metri di altezza.
- B La loro formazione è dovuta principalmente a rocce depositatesi durante il Mesozoico.
- C Sia fra le catene parallele sia fra i massicci si aprono frequentemente bacini interni o conche.
- D Ai margini della catena si estendono rilievi morenici.



(2 punti)

20. Spiega la formazione della forma del rilievo rappresentata nella figura 9 dell'allegato a colori.

---



---

(2 punti)

21. Con la descrizione della causa e delle conseguenze spiegate l'influsso del fiume Po sul modellamento della costa alla foce del fiume.

---



---

(2 punti)



## Geografia dell'Italia 2

22. La figura 4 rappresenta la variazione della popolazione attiva per settori occupazionali tra il 1861 e il 2011. Indicate la lettera che contrassegna la linea che riporta correttamente la variazione degli addetti al settore secondario.

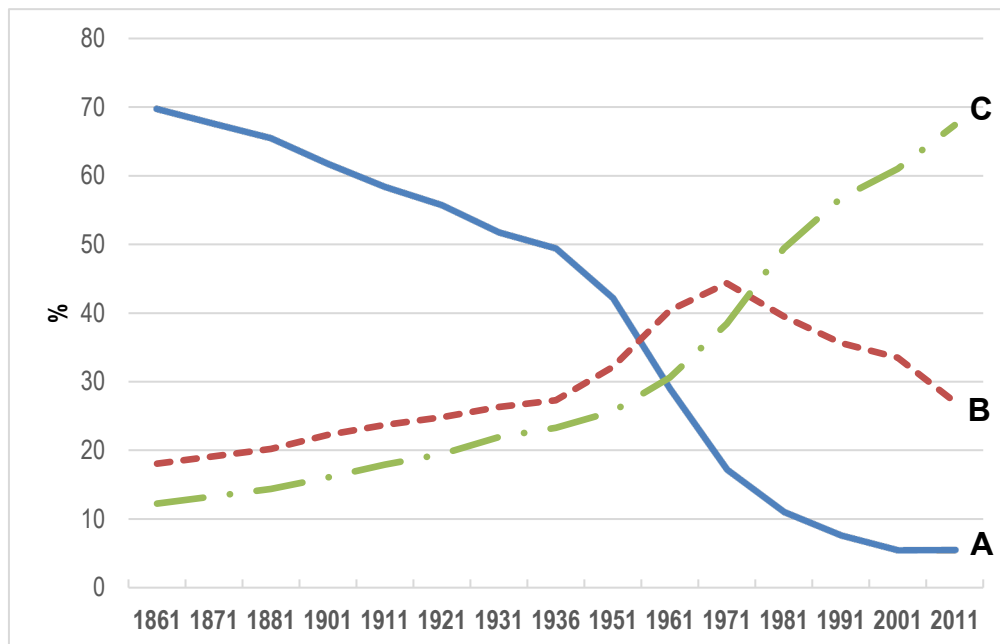


Figura 4: Popolazione attiva per settore di attività economica ai censimenti 1861 – 2011

(Fonte: Popolazione attiva in condizione professionale per sesso e settore di attività economica ai Censimenti 1861-2011. URL: [http://seriestoriche.istat.it/fileadmin/documenti/Tavola\\_10.3.xls](http://seriestoriche.istat.it/fileadmin/documenti/Tavola_10.3.xls). Data di consultazione: 25. 4. 2019.)

Lettera: \_\_\_\_\_

(1 punto)

23. Con riferimento alla figura 4 nell'esercizio 22, indicate il decennio in cui è iniziato il "miracolo" economico italiano ("boom economico") e descrivete due cause del rapido sviluppo economico nel periodo indicato.

Periodo: \_\_\_\_\_

Cause del rapido sviluppo economico:

1 \_\_\_\_\_

2 \_\_\_\_\_

(3 punti)



24. Nella figura 5, le lettere A e B contrassegnano due distretti produttivi nell'Italia settentrionale. Per ciascun distretto indicate il fattore di localizzazione che ne ha maggiormente determinato l'ubicazione.



Figura 5: Ubicazione di due distretti produttivi nell'Italia settentrionale.

(Adattato da: Carte mute. [https://nuovogiramondo.giuntiscuola.it/app/books/GIAC78\\_G7869726U/html/76](https://nuovogiramondo.giuntiscuola.it/app/books/GIAC78_G7869726U/html/76); A Gela il petrolchimico, a Busto Arsizio il tessile. <https://www.infodata.ilsole24ore.com/2018/09/14/gela-petrolchimico-busto-arsizio-tessile-la-nuova-mappa-dei-distretti-italiani/>. Data di consultazione: 29. 4. 2019)

Industria metallurgica e siderurgica nel bresciano (A):

---

Industria agro-alimentare nel parmense (B):

---

(2 punti)

25. Nell'elenco sottostante, cerchiare i due prodotti che appartengono ai tradizionali settori del Made in Italy.

fertilizzanti

farmaci

ceramiche

mobili imbottiti

televisori

(2 punti)

26. Con la descrizione delle cause e delle conseguenze, spiegate l'importanza del marchio Made in Italy per lo sviluppo dei distretti industriali in Italia.

---

---

(2 punti)



**Pagina vuota**





**Pagina vuota**



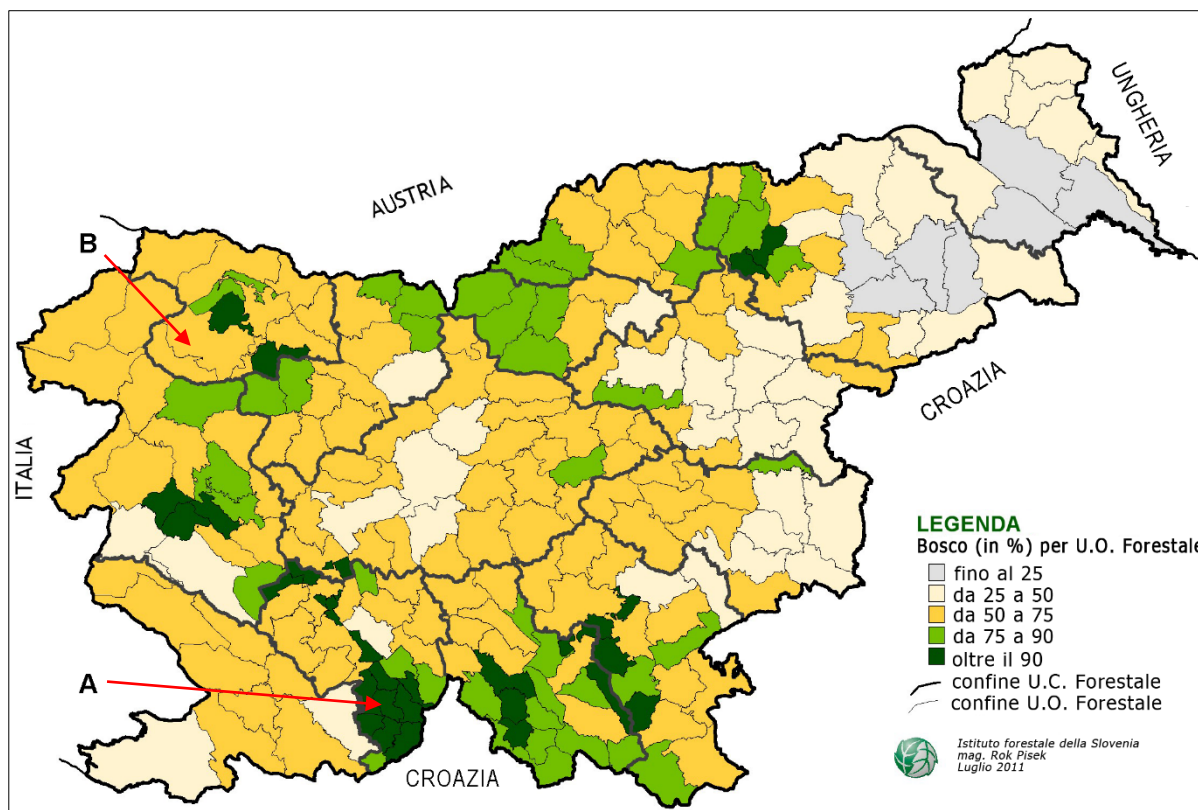


**Allegato a colori (alla Prova d'esame 2)**



**Figura 6**

(Fonte: <https://upload.wikimedia.org/wikipedia/commons/8/89/...8-1-2012.jpg>. Data di consultazione: 3. 12. 2020.)



**Figura 7**

(Adattato da: [http://www.zgs.si/fileadmin/zgs/main/img/CE/gozdovi\\_SLO/Karte/Gozdnatost\\_KO.jpg](http://www.zgs.si/fileadmin/zgs/main/img/CE/gozdovi_SLO/Karte/Gozdnatost_KO.jpg). Data di consultazione: 15. 2. 2021.)



Figura 8

(Adattato da: [https://sl.wikipedia.org/wiki/Figura:Relief\\_map\\_of\\_Slovenia.png](https://sl.wikipedia.org/wiki/Figura:Relief_map_of_Slovenia.png). Data di consultazione: 1. 12. 2020.)



Figura 9

(Fonte: Rilievi e pianure d'Europa. [https://www.pearson.it/libroliquido/demo/2016/Geografia\\_SSPG\\_9788879527408/9788879527408\\_img/capitolo\\_4/img\\_43.jpg](https://www.pearson.it/libroliquido/demo/2016/Geografia_SSPG_9788879527408/9788879527408_img/capitolo_4/img_43.jpg). Data di consultazione: 7. 6. 2019.)