



Š i f r a k a n d i d a t a :

Državni izpitni center



M 2 3 1 6 3 1 1 1

SPOMLADANSKI IZPITNI ROK

SODOBNI PLES

==== Izpitna pola ====

Petek, 2. junij 2023 / 90 minut

Dovoljeno gradivo in pripomočki:

Kandidat prinese nalivno pero ali kemični svinčnik, svinčnik, radirko in šilček.

Konceptni list in konceptni list z notnim črtovjem sta na perforiranih listih, ki ju kandidat pazljivo iztrga.

SPLOŠNA MATURA

NAVODILA KANDIDATU

Pazljivo preberite ta navodila.

Ne odpirajte izpitne pole in ne začenjajte reševati nalog, dokler vam nadzorni učitelj tega ne dovoli.

Prilepite kodo oziroma vpišite svojo šifro (v okvirček desno zgoraj na tej strani).

Izpitna pola vsebuje 25 nalog. Število točk, ki jih lahko dosežete, je 93. Za posamezno nalogo je število točk navedeno v izpitni poli.

Rešitve pišite z nalivnim peresom ali s kemičnim svinčnikom v izpitno polo v za to predvideni prostor **znotraj okvirja**. Note lahko najprej napišete s svinčnikom, potem pa jih morate prevleči z nalivnim peresom ali s kemičnim svinčnikom. Če tega ne boste storili, bodo take rešitve ocenjene z 0 točkami. Pišite čitljivo. Če se zmotite, zapis prečrtajte in rešitev napišite na novo. Nečitljivi zapisi in nejasni popravki bodo ocenjeni z 0 točkami. Osnutki rešitev, ki jih lahko napišete na konceptna lista, se pri ocenjevanju ne upoštevajo.

Zaupajte vase in v svoje zmožnosti. Želimo vam veliko uspeha.

Ta pola ima 16 strani, od tega 2 prazni.



Konceptni list

Empty rectangular box for writing.



M 2 3 1 6 3 1 1 1 0 5


Konceptni list z notnim črtovjem

Handwriting practice area consisting of ten sets of five horizontal lines.

V sivo polje ne pišite. V sivo polje ne pišite. V sivo polje ne pišite. V sivo polje ne pišite. V sivo polje ne pišite. V sivo polje ne pišite. V sivo polje ne pišite. V sivo polje ne pišite. V sivo polje ne pišite. V sivo polje ne pišite.



1. Izpolnite notne višine in ne pozabite na violinski ključ: des1, eis1, gis2, as2, a, b.





(7 točk)

2. Naštejte lastnosti tona in opišite, kaj določa vsako posamezno lastnost.



(8 točk)

3. Notni zapis prestavite v basovski ključ za eno oktavo, ne pozabite na ključ in prestavitev predznakov.



(6 točk)



12. Odgovorite na spodnja vprašanja o grškem plesu.

12.1. Vsi grški plesi so imeli dva temeljna načina izražanja. Imenujte ju.

(2)

12.2. Kdo je bil Tespis, za kaj je zaslužen ter kako imenujemo prvega solista?

(2)
(4 točke)

13. Kaj je in kje se uresničuje umetniški ideal Kitajske ter kakšno vlogo je sprva imelo gledališče?

(2 točki)

14. Imenujte dva najbolj priljubljena družabna plesa v baroku.

(2 točki)

15. Dopolnite besedilo.

Prvi futuristični manifest avtorja _____ je izšel leta _____ v francoskem časniku _____.

(3 točke)



18. Odgovorite na spodnja vprašanja o modernem plesu v Evropi.

18.1. Avtorica na spodnji fotografiji je ena najbolj prepoznavnih koreografinj v 2. polovici 20. stoletja na svetu, ki namenja posebno pozornost vprašanju, kaj premakne človeka.

Imenujte znamenito koreografinjo in plesalko na spodnji fotografiji ter ime skupine, ki jo je ustanovila.



(Vir: <https://www.goethe.de/en/kul/tut/gen/tan/bew/21013644.html>. Pridobljeno: 17. 1. 2022.)

_____ (1)

18.2. Kako se v slovenskem ali nemškem jeziku imenuje oblika gledališča, ki jo je razvila?

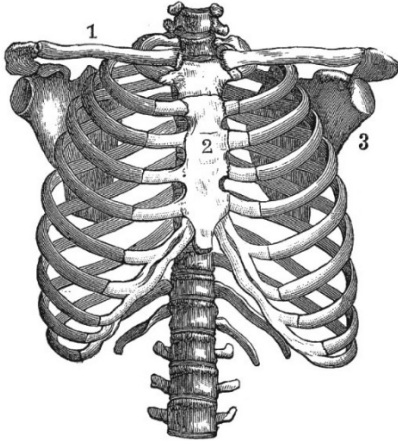
_____ (1)

18.3. Imenujte predstavnika nemškega ekspresionističnega plesa, ki je bil njen učitelj, in imenujte njegovo najbolj znano koreografijo, ki je potekala kot obsodba vojne.

_____ (2)
(4 točke)



21. Poimenujte označene kosti na spodnji sliki. Kako se imenuje povezava kosti 1, 2, 3?



Kosti:

1 _____

2 _____

3 _____

(Vir: <https://pixels.com/featured/...-diagram-vintage-anatomy-poster-2-vintage-anatomy-prints.html>. Pridobljeno: 15. 11. 2021.)

Povezava kosti: _____ (4 točke)

22. Opišite postopek mehanike dihanja. Kje je dihalni center? Katere mišice sodelujejo pri tem?

(5 točk)

23. Navedite tri somatske tehnike.

(3 točke)

